

2025학년도 10월 고2 전국연합학력평가 정답 및 해설

• 2교시 수학 영역 •

※ 본 전국연합학력평가는 17개 시도 교육청 주관으로 시행되며, 해당 자료는 EBS에서만 제공됩니다.
무단 전재 및 재배포는 금지됩니다.

1	3	2	1	3	4	4	5	5	1
6	2	7	5	8	1	9	3	10	4
11	2	12	3	13	2	14	5	15	3
16	4	17	1	18	5	19	2	20	3
21	3	22	3	23	20	24	7	25	13
26	9	27	12	28	5	29	28	30	50

1. [출제의도] 지수법칙 계산하기

$$(3^{\sqrt{2}-1})^{\sqrt{2}+1} = 3^{(\sqrt{2}-1)(\sqrt{2}+1)} = 3^{2-1} = 3$$

2. [출제의도] 미분계수 이해하기

$$\lim_{h \rightarrow 0} \frac{f(1+h) - f(1)}{3h} = \frac{1}{3} f'(1) = 2 \text{에서 } f'(1) = 6$$

3. [출제의도] 등비수열 이해하기

4는 a와 b의 등비중항이므로 $a \times b = 4^2 = 16$

4. [출제의도] 함수의 극한 이해하기

$$\lim_{x \rightarrow -1^-} f(x) + \lim_{x \rightarrow -1^+} f(x) = 2 + 3 = 5$$

5. [출제의도] 삼각함수의 성질 이해하기

$$\tan \theta = \frac{\sin \theta}{\cos \theta} = \frac{\sqrt{5}}{2} \text{에서}$$

$$2 \sin \theta = \sqrt{5} \cos \theta$$

$$4 \sin^2 \theta = 5 \cos^2 \theta$$

$$4(1 - \cos^2 \theta) = 5 \cos^2 \theta$$

$$\cos^2 \theta = \frac{4}{9}$$

$$\pi < \theta < \frac{3}{2}\pi \text{에서 } \cos \theta < 0 \text{이므로 } \cos \theta = -\frac{2}{3}$$

6. [출제의도] 함수의 연속 이해하기

함수 $f(x)$ 는 실수 전체의 집합에서 연속이므로 $x = a$ 에서 연속이다.

$$f(a) = \lim_{x \rightarrow a^+} f(x) = \lim_{x \rightarrow a^+} (x^2 - 3x + 6) = a^2 - 3a + 6,$$

$$\lim_{x \rightarrow a^-} f(x) = \lim_{x \rightarrow a^-} (x - 2a)^2 = a^2$$

이므로 $a^2 - 3a + 6 = a^2$ 에서 $a = 2$

7. [출제의도] 수열의 합 이해하기

$$\sum_{k=1}^5 (k^2 + 2k - 4) - \sum_{k=1}^5 (2k + 5)$$

$$= \sum_{k=1}^5 (k^2 - 9)$$

$$= \sum_{k=1}^5 k^2 - \sum_{k=1}^5 9 = \frac{5 \times 6 \times 11}{6} - 45 = 10$$

8. [출제의도] 로그의 성질 이해하기

$$\log_3 a = 2 \log_a \sqrt{3} \text{에서}$$

$$\log_3 a = 2 \times \frac{1}{2} \log_a 3$$

$$\log_3 a = \frac{1}{\log_3 a}$$

$$(\log_3 a)^2 = 1$$

$$\log_3 a = 1 \text{ 또는 } \log_3 a = -1$$

$$a = 3 \text{ 또는 } a = \frac{1}{3}$$

따라서 구하는 모든 a의 값의 합은 $3 + \frac{1}{3} = \frac{10}{3}$

9. [출제의도] 삼각함수의 성질 이해하기

$$3 \tan(\pi + \theta) = 2 \sin\left(\frac{\pi}{2} + \theta\right) \text{에서}$$

$$3 \tan \theta = 2 \cos \theta$$

$$\frac{3 \sin \theta}{\cos \theta} = 2 \cos \theta$$

$$3 \sin \theta = 2 \cos^2 \theta$$

$$3 \sin \theta = 2 - 2 \sin^2 \theta$$

$$2 \sin^2 \theta + 3 \sin \theta - 2 = (2 \sin \theta - 1)(\sin \theta + 2) = 0$$

$$-1 \leq \sin \theta \leq 1 \text{이므로 } \sin \theta = \frac{1}{2}$$

10. [출제의도] 함수의 극한을 활용하여 문제해결하기

$$\lim_{x \rightarrow \infty} \frac{(x^2 - 1)f(x)}{3x + 1} = \lim_{x \rightarrow \infty} \left\{ \frac{x + 1}{3x + 1} \times (x - 1)f(x) \right\}$$

$$= \lim_{x \rightarrow \infty} \left\{ \frac{1 + \frac{1}{x}}{3 + \frac{1}{x}} \times (x - 1)f(x) \right\}$$

$$= \frac{1}{3} \times 12 = 4$$

11. [출제의도] 로그함수의 성질을 활용하여 문제해결하기

$x^2 - x$, x 는 로그의 진수이므로

$$x^2 - x > 0, x > 0 \text{에서 } x > 1 \dots \text{㉠}$$

$$\text{부등식 } \log_2(x^2 - x) < 1 - \log_{\frac{1}{2}} x \text{에서}$$

$$\log_2(x^2 - x) < \log_2 2 + \log_2 x$$

$$\log_2(x^2 - x) < \log_2 2x$$

밑 2가 1보다 크므로

$$x^2 - x < 2x, x(x - 3) < 0 \text{에서 } 0 < x < 3 \dots \text{㉡}$$

㉠, ㉡에 의하여 구하는 모든 x의 값의 범위는

$$1 < x < 3$$

따라서 $\alpha + \beta = 1 + 3 = 4$

12. [출제의도] 함수의 극한을 활용하여 문제해결하기

$$x^2 - 3x = tx \text{에서}$$

$$x(x - t - 3) = 0$$

$$x = 0 \text{ 또는 } x = t + 3$$

점 P는 원점 O가 아니므로

$$\text{점 P의 좌표는 } (t + 3, t^2 + 3t)$$

$$\overline{OP} = \sqrt{(t + 3)^2 + t^2(t + 3)^2} = (t + 3) \sqrt{t^2 + 1}$$

$$\overline{OH} = t + 3$$

따라서

$$\lim_{t \rightarrow 0^+} \frac{\overline{OP} - \overline{OH}}{t^2}$$

$$= \lim_{t \rightarrow 0^+} \frac{(t + 3) \sqrt{t^2 + 1} - (t + 3)}{t^2}$$

$$= \lim_{t \rightarrow 0^+} \frac{(t + 3)(\sqrt{t^2 + 1} - 1)(\sqrt{t^2 + 1} + 1)}{t^2(\sqrt{t^2 + 1} + 1)}$$

$$= \lim_{t \rightarrow 0^+} \frac{(t + 3)\{(t^2 + 1) - 1\}}{t^2(\sqrt{t^2 + 1} + 1)}$$

$$= \lim_{t \rightarrow 0^+} \frac{t + 3}{\sqrt{t^2 + 1} + 1} = \frac{3}{2}$$

13. [출제의도] 삼각함수의 뜻과 그래프 이해하기

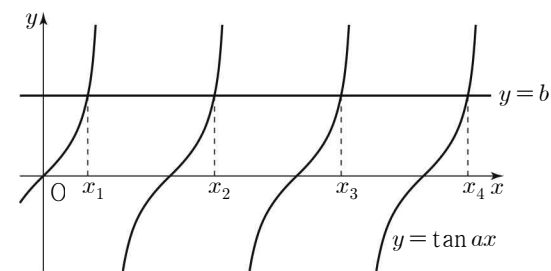
함수 $y = \tan ax$ 의 주기는 $\frac{\pi}{|a|}$ 이고

$$x_4 - x_2 = 6\pi \text{이므로 } 2 \times \frac{\pi}{a} = 6\pi, a = \frac{1}{3}$$

$$x_1 = \pi \text{이므로 } \tan a\pi = b \text{이고,}$$

$$b = \tan \frac{\pi}{3} = \sqrt{3}$$

$$\text{따라서 } a \times b = \frac{1}{3} \times \sqrt{3} = \frac{\sqrt{3}}{3}$$



14. [출제의도] 수열의 합과 일반항 사이의 관계를 활용하여 문제해결하기

$$a_1 = S_1 = 1$$

$$n \geq 2 \text{일 때}$$

$$a_n = S_n - S_{n-1} = \frac{1}{n} - \frac{1}{n-1} = -\frac{1}{n(n-1)}$$

따라서

$$a_1 + \sum_{k=2}^7 \frac{1}{(k-1) \times a_k} = 1 + \sum_{k=2}^7 \frac{-k(k-1)}{k-1}$$

$$= 1 - \sum_{k=2}^7 k$$

$$= 1 - \left(\sum_{k=1}^7 k - 1 \right)$$

$$= 2 - \frac{7 \times 8}{2} = -26$$

15. [출제의도] 거듭제곱근의 정의 이해하기

(i) $1 < n < 6$ 일 때

$$n - 12 < 0 \text{이므로}$$

$$n \text{이 짝수이면 } f(n) = 0, n \text{이 홀수이면 } f(n) = 1$$

또한

$$2n - 12 < 0 \text{이고 } 2n \text{은 짝수이므로 } f(2n) = 0$$

$$\text{그러므로 } f(n) + f(2n) = 1 \text{을 만족시키는 자연수}$$

n의 값은 3, 5

(ii) $n = 6$ 일 때

$$n - 12 < 0 \text{이고 } 6 \text{은 짝수이므로 } f(n) = 0$$

$$2n - 12 = 0 \text{이므로 } f(2n) = 1$$

$$\text{그러므로 } f(n) + f(2n) = 1 \text{을 만족시킨다.}$$

(iii) $n > 6$ 일 때

$$2n - 12 > 0 \text{이고 } 2n \text{은 짝수이므로 } f(2n) = 2$$

$$f(n) \geq 0 \text{이므로 } f(n) + f(2n) = 1 \text{을 만족시키지}$$

않는다.

(i), (ii), (iii)에 의하여 구하는 모든 n의 값의

$$\text{합은 } 3 + 5 + 6 = 14$$

16. [출제의도] 함수의 극한을 이용하여 추론하기

$$f(1) = 0 \text{에서 } f(x) = (x - 1)(x - a) \text{ (a는 실수)}$$

(i) $a = 1$ 일 때

$$\lim_{x \rightarrow 1} \frac{f(x+3) \times g(x)}{\{f(x)\}^2} = \lim_{x \rightarrow 1} \frac{(x+2)^2 g(x)}{(x-1)^4}$$

사차다항식 $(x+2)^2 g(x)$ 는 $(x-1)^5$ 을

인수로 가질 수 없으므로

$$\lim_{x \rightarrow 1} \frac{f(x+3) \times g(x)}{\{f(x)\}^2} = 0 \text{을 만족시키지 않는다.}$$

(ii) $a \neq 1$ 일 때

$$\lim_{x \rightarrow 1} \frac{f(x+3) \times g(x)}{\{f(x)\}^2}$$

$$= \lim_{x \rightarrow 1} \frac{(x+2)(x+3-a)g(x)}{(x-1)^2(x-a)^2} = 0$$

이므로 사차다항식 $(x+2)(x+3-a)g(x)$ 는 $(x-1)^3$ 을 인수로 갖는다.

그러므로 $(x+3-a)g(x)=(x-1)^3$ 이고,
 $a=4, g(x)=(x-1)^2$

(i), (ii)에 의하여

$$f(x)=(x-1)(x-4), g(x)=(x-1)^2$$

따라서 $f(5)+g(5)=4+16=20$

17. [출제의도] 등차수열을 활용하여 문제해결하기

$$a_4 \times a_5 = (a_1 - 6)(a_1 - 8) \leq 0 \text{에서 } 6 \leq a_1 \leq 8 \text{이고}$$

a_1 이 자연수이므로

a_1 의 값은 6, 7, 8 중 하나이다. ... ㉠

등차수열 $\{a_n\}$ 의 첫째항이 자연수이고 공차가

-2이므로 2 이상의 자연수 k 에 대하여 $a_k < a_1$ 이고

a_k 는 정수이다.

(i) $a_k \geq 0$ 일 때

$$|a_1 - a_k| = 4|a_k| \text{에서}$$

$$a_1 - a_k = 4a_k, a_1 = 5a_k$$

이고 a_k 는 정수이므로 ㉠을 만족시키지 않는다.

(ii) $a_k < 0$ 일 때

$$|a_1 - a_k| = 4|a_k| \text{에서}$$

$$a_1 - a_k = -4a_k, a_1 = -3a_k$$

이고 a_k 가 정수이므로 ㉠에서 $a_1 = 6, a_k = -2$

$$a_k = 6 + (k-1) \times (-2) = -2 \text{에서 } k = 5$$

(i), (ii)에 의하여 $a_1 + k = 6 + 5 = 11$

18. [출제의도] 삼각함수의 그래프를 활용하여 문제해결하기

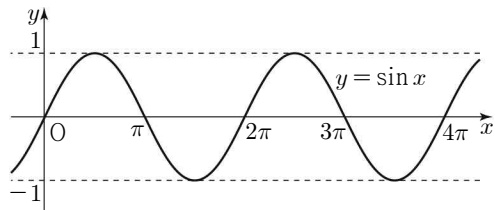
단원구간 $[0, \pi]$ 에서 함수 $f(x) = \sin(x+a)$ 의

최대값, 최소값은 각각

단원구간 $[a, a+\pi]$ 에서 함수 $y = \sin x$ 의

최대값, 최소값과 같다.

함수 $y = \sin x$ 의 그래프는 그림과 같다.



(i) $0 < a \leq \frac{\pi}{2}$ 일 때

$$M=1 \text{에서 } 2|M|=2 \text{이고}$$

$$m = \sin(a+\pi) = -\sin a \text{에서 } |m| \leq 1 \text{이므로}$$

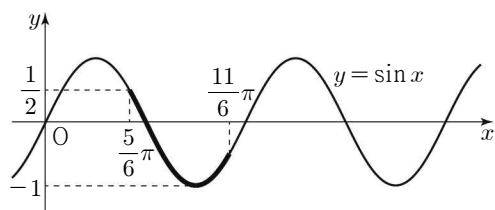
$2|M|=|m|$ 을 만족시키지 않는다.

(ii) $\frac{\pi}{2} < a \leq \pi$ 일 때

$$M = \sin a, m = -1 \text{이고}$$

$$2|M|=|m| \text{이므로}$$

$$\sin a = \frac{1}{2}, a = \frac{5}{6}\pi$$

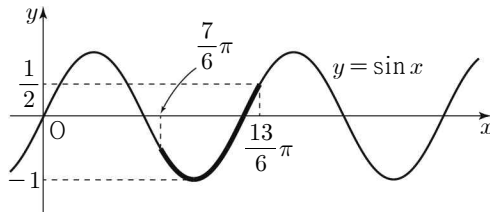


(iii) $\pi < a \leq \frac{3}{2}\pi$ 일 때

$$M = \sin(a+\pi) = -\sin a, m = -1 \text{이고}$$

$$2|M|=|m| \text{이므로}$$

$$\sin a = -\frac{1}{2}, a = \frac{7}{6}\pi$$



(iv) $\frac{3}{2}\pi < a \leq 2\pi$ 일 때

$$M=1 \text{에서 } 2|M|=2 \text{이고}$$

$$m = \sin a \text{에서 } |m| \leq 1 \text{이므로}$$

$2|M|=|m|$ 을 만족시키지 않는다.

(v) $2\pi < a \leq \frac{5}{2}\pi$ 일 때

$$M=1 \text{에서 } 2|M|=2 \text{이고}$$

$$m = \sin(a+\pi) = -\sin a \text{에서 } |m| \leq 1 \text{이므로}$$

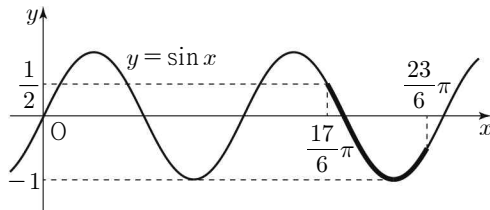
$2|M|=|m|$ 을 만족시키지 않는다.

(vi) $\frac{5}{2}\pi < a \leq 3\pi$ 일 때

$$M = \sin a, m = -1 \text{이고}$$

$$2|M|=|m| \text{이므로}$$

$$\sin a = \frac{1}{2}, a = \frac{17}{6}\pi$$



(i)~(vi)에 의하여 구하는 모든 양수 a 의 값의

$$\text{합은 } \frac{5}{6}\pi + \frac{7}{6}\pi + \frac{17}{6}\pi = \frac{29}{6}\pi$$

19. [출제의도] 지수함수의 그래프를 활용하여 문제해결하기

곡선 $y = 2^{x-1} + 1$ 은 곡선 $y = 2^x$ 을 x 축의 방향으로 1만큼, y 축의 방향으로 1만큼 평행이동한 곡선이다.

그러므로 곡선 $y = 2^x$ 위의 두 점 A, B를 x 축의

방향으로 1만큼, y 축의 방향으로 1만큼 평행이동한

점을 각각 A', B'이라 하면 두 점 A', B'은 곡선

$y = 2^{x-1} + 1$ 위에 있다.

또한 두 직선 AA', BB'의 기울기가 모두 1이므로

두 점 A', B'은 모두 직선 l 위에 있다.

그러므로 두 점 A', B'은 각각 점 C, 점 D와

$$\text{일치하고, } \overline{AC} = \overline{BD} = \sqrt{1^2 + 1^2} = \sqrt{2}$$

점 B가 선분 AD를 3:1로 내분하므로

$$\overline{AB} : \overline{BD} = 3 : 1$$

$$\overline{AB} = 3\overline{BD} = 3\sqrt{2}$$

그러므로 점 B의 좌표를 $(k, 2^k)$ 이라 하면

점 A의 좌표는 $(k-3, 2^{k-3})$ 이다.

점 A는 곡선 $y = 2^x$ 위에 있으므로

$$2^{k-3} = 2^k - 3, 2^k = \frac{24}{7} \text{에서 } k = \log_2 \frac{24}{7}$$

따라서 점 B의 x 좌표는 $\log_2 \frac{24}{7}$

20. [출제의도] 등비수열을 이용하여 추론하기

등비수열 $\{a_n\}$ 의 공비를 r 이라 하자.

조건 (가)에서 2 이상의 모든 자연수 n 에 대하여

$$a_n > a_1 \text{이므로}$$

$$a_1 > 0, r > 1 \text{ 또는 } a_1 < 0, -1 < r < 1 \dots \text{㉠}$$

또한 2 이상의 모든 자연수 n 에 대하여

$$a_n = (a_1 + a_5 - 1) \times a_{n-1}$$

이므로

$$a_1 + a_5 - 1 = r$$

$$a_1 r^3 + a_1 r^4 - 1 = r$$

$$a_1 r^3(1+r) = 1+r$$

$$\text{㉠에서 } r \neq -1 \text{이므로 } a_1 r^3 = 1, r^3 = \frac{1}{a_1}$$

$$\text{조건 (나)에서 } \sum_{n=1}^3 a_n = \frac{6}{a_1 - a_2} \text{이므로}$$

$$\frac{a_1(1-r^3)}{1-r} = \frac{6}{a_1(1-r)}$$

$$a_1^2 \left(1 - \frac{1}{a_1}\right) = 6$$

$$a_1^2 - a_1 - 6 = (a_1 - 3)(a_1 + 2) = 0$$

$$a_1 = 3 \text{ 또는 } a_1 = -2$$

$a_1 = 3$ 이면 $r^3 = \frac{1}{3}$ 이므로 $r < 1$ 이 되어 ㉠을

만족시키지 않는다.

$a_1 = -2$ 이면 $r^3 = -\frac{1}{2}$ 이므로 $-1 < r < 1$ 이 되어

㉠을 만족시킨다.

따라서

$$a_{10} = a_1 r^9 = a_1 (r^3)^3 = -2 \times \left(-\frac{1}{2}\right)^3 = \frac{1}{4}$$

21. [출제의도] 지수함수의 그래프를 이용하여 추론하기

$f(x)f(x-k) = 0$ 이면

$f(x) = 0$ 또는 $f(x-k) = 0$ 이므로

x 에 대한 방정식 $f(x)f(x-k) = 0$ 의 서로 다른

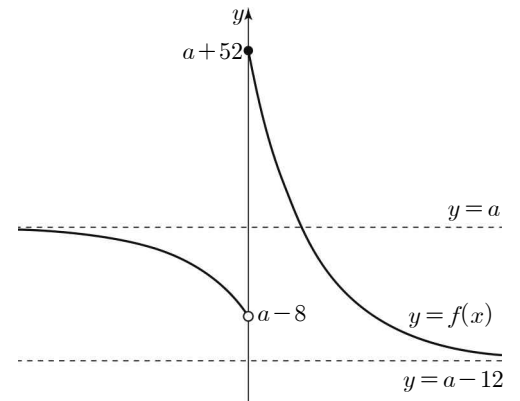
실근의 개수는

함수 $y = f(x)$ 의 그래프 또는 함수 $y = f(x-k)$ 의

그래프가 x 축과 만나는 서로 다른 점의 개수와

같다.

함수 $y = f(x)$ 의 그래프의 개형은 그림과 같다.



함수 $y = f(x-k)$ 의 그래프가 x 축과 만나는

서로 다른 점의 개수는

함수 $y = f(x)$ 의 그래프가 x 축과 만나는

서로 다른 점의 개수와 같고, 그 개수는

$a < -52$ 또는 $a \geq 12$ 일 때 0,

$-52 \leq a \leq 0$ 또는 $8 \leq a < 12$ 일 때 1,

$0 < a < 8$ 일 때 2이다.

함수 $y = f(x)$ 의 그래프 또는 함수 $y = f(x-k)$ 의

그래프가 x 축과 만나는 서로 다른 점의 개수는

$a \leq 0$ 또는 $a \geq 8$ 일 때 2 이하이고,

$0 < a < 8$ 일 때 4 이하이므로

조건을 만족시키려면 $0 < a < 8$ 이어야 한다. ... ㉠

$0 < a < 8$ 일 때,

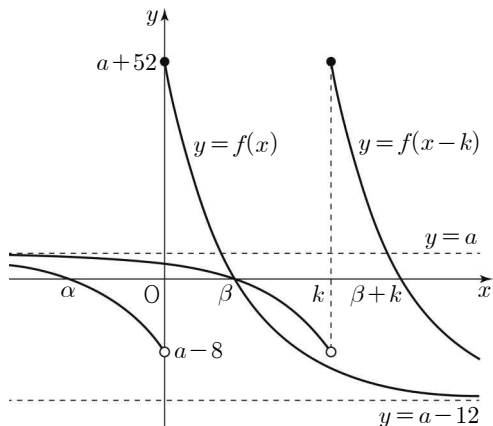
함수 $y=f(x)$ 의 그래프가 x 축과 만나는 두 점의 x 좌표를 α, β ($\alpha < \beta$)라 하면 $\alpha < 0 < \beta$ 이고,

함수 $y=f(x-k)$ 의 그래프가 x 축과 만나는 두 점의 x 좌표는 $\alpha+k, \beta+k$ 이다.

이때

함수 $y=f(x)$ 의 그래프 또는 함수 $y=f(x-k)$ 의 그래프가 x 축과 만나는 서로 다른 점의 개수가 3이려면 $\beta=\alpha+k$ 이어야 한다.

$0 < a < 8$ 이고 $\beta=\alpha+k$ 일 때, 두 함수 $y=f(x), y=f(x-k)$ 의 그래프의 개형은 그림과 같다.



$f(\alpha)=0$ 이므로

$$-2^{\alpha+3}+a=0, 2^{\alpha+3}=a \text{에서 } \alpha=\log_2 a-3$$

$f(\beta)=0$ 이므로

$$2^{-\beta+6}+a-12=0, 2^{-\beta+6}=12-a \text{에서}$$

$$\beta=6-\log_2(12-a)$$

k 는 4 이하의 양수이므로

$$k=\beta-\alpha$$

$$=6-\log_2(12-a)-\log_2 a+3$$

$$=9-\log_2(12a-a^2) \leq 4$$

$$\log_2(12a-a^2) \geq 5$$

$$12a-a^2 \geq 32$$

$$a^2-12a+32=(a-4)(a-8) \leq 0$$

㉠에서 $0 < a < 8$ 이므로 $4 \leq a < 8$

따라서 조건을 만족시키도록 하는 모든 정수 a 의 값의 합은 $4+5+6+7=22$

22. [출제의도] 로그 계산하기

$$\log_3 54 - \log_3 2 = \log_3 27 = 3$$

23. [출제의도] 호도법 이해하기

부채꼴의 반지름의 길이를 r 이라 하자.

부채꼴의 호의 길이가 4π 이므로

$$4\pi = r \times \frac{2}{5}\pi \text{에서 } r=10 \text{이고,}$$

$$\text{부채꼴의 넓이는 } \frac{1}{2} \times 10^2 \times \frac{2}{5} = 20\pi$$

따라서 $a=20$

24. [출제의도] 지수함수와 로그함수의 그래프 이해하기

두 함수 $y=\log(x-2), y=2^x+5$ 의 그래프의 점근선의 방정식은 각각 $x=2, y=5$ 이다.

그러므로 두 점근선이 만나는 점의 좌표는 $(2, 5)$

따라서 $a+b=2+5=7$

25. [출제의도] 등차수열의 합 이해하기

등차수열 $\{a_n\}$ 의 공차를 d 라 하자.

$$S_{11} = \frac{11\{2a_1 + (11-1)d\}}{2}$$

$$= 11(a_1 + 5d) = 88$$

에서 $a_1 + 5d = 8$ 이고

$a_5 = 3$ 에서 $a_1 + 4d = 3$ 이다.

두 식을 연립하여 계산하면 $d=5, a_1=-17$

따라서 $a_7 = -17 + 6 \times 5 = 13$

【 다른 풀이 】

$$S_{11} = \frac{11(a_1 + a_{11})}{2} = 88 \text{에서 } \frac{a_1 + a_{11}}{2} = 8$$

a_1 과 a_{11} 의 등차중항은 a_6 이므로 $a_6 = 8$ 이고,

$a_5 = 3$ 이므로 등차수열 $\{a_n\}$ 의 공차는 5이다.

따라서 $a_7 = 8 + 5 = 13$

26. [출제의도] 미분계수를 이용하여 추론하기

함수

$$f(x) = \begin{cases} -ax + 2a & (x < 2) \\ ax - 2a & (x \geq 2) \end{cases}$$

에 대하여

(i) $k < 2$ 일 때

$$\begin{aligned} \lim_{x \rightarrow k} \frac{f(x)-f(k)}{x-k} &= \lim_{x \rightarrow k} \frac{-ax+2a-(-ak+2a)}{x-k} \\ &= \lim_{x \rightarrow k} \frac{-a(x-k)}{x-k} = -a \end{aligned}$$

이므로

$$\begin{aligned} \lim_{x \rightarrow k+} \frac{f(x)-f(k)}{x-k} &= \lim_{x \rightarrow k-} \frac{f(x)-f(k)}{x-k} \\ &= -a - (-a) = 0 \neq 6 \end{aligned}$$

(ii) $k=2$ 일 때

$$\begin{aligned} \lim_{x \rightarrow 2+} \frac{f(x)-f(2)}{x-2} &= \lim_{x \rightarrow 2-} \frac{f(x)-f(2)}{x-2} \\ &= \lim_{x \rightarrow 2+} \frac{ax-2a}{x-2} = \lim_{x \rightarrow 2-} \frac{-ax+2a}{x-2} \\ &= a - (-a) = 2a \\ 2a &= 6 \text{에서 } a=3 \end{aligned}$$

(iii) $k > 2$ 일 때

$$\begin{aligned} \lim_{x \rightarrow k} \frac{f(x)-f(k)}{x-k} &= \lim_{x \rightarrow k} \frac{ax-2a-(ak-2a)}{x-k} \\ &= \lim_{x \rightarrow k} \frac{a(x-k)}{x-k} = a \end{aligned}$$

이므로

$$\begin{aligned} \lim_{x \rightarrow k+} \frac{f(x)-f(k)}{x-k} &= \lim_{x \rightarrow k-} \frac{f(x)-f(k)}{x-k} \\ &= a - a = 0 \neq 6 \end{aligned}$$

(i), (ii), (iii)에 의하여 $a=3, k=2$ 이므로

$$f(a+k) = f(3+2) = f(5) = 9$$

27. [출제의도] 사인법칙과 코사인법칙을 활용하여 문제 해결하기

삼각형 ABC에서 사인법칙에 의하여

$$\frac{BC}{\sin A} = \frac{AC}{\sin B}$$

이고 $2\sin A = \sin B$ 이므로 $\overline{AC} = 2\overline{BC}$

$\overline{BC} = k$ 라 하면 $\overline{AC} = 2k$

삼각형 ABC에서 코사인법칙에 의하여

$$6^2 = k^2 + (2k)^2 - 2 \times k \times 2k \times \frac{4}{5}$$

$$\frac{9}{5}k^2 = 36 \text{이고, } k > 0 \text{이므로 } k = 2\sqrt{5}$$

$$\cos C = \frac{4}{5} \text{에서 } \sin C = \sqrt{1 - \left(\frac{4}{5}\right)^2} = \frac{3}{5}$$

따라서 삼각형 ABC의 넓이는

$$\frac{1}{2} \times 2\sqrt{5} \times 4\sqrt{5} \times \frac{3}{5} = 12$$

28. [출제의도] 함수의 연속을 이용하여 추론하기

함수 $g(x)$ 를

$$g(x) = \begin{cases} f(x) & (0 \leq x < 1, 1 < x \leq 2) \\ 3f(2) & (x=1) \end{cases}$$

이라 하자.

조건 (가)에 의하여

함수 $g(x)$ 는 닫힌구간 $[0, 2]$ 에서 연속이다.

또한 조건 (나)에 의하여

$$g(0) \neq 2, g(2) \neq 2 \text{이고 } \frac{g(0)+g(2)}{2} = 2 \text{이므로}$$

$$g(0) < 2 < g(2) \text{ 또는 } g(2) < 2 < g(0) \text{이다.}$$

그러므로 사잇값 정리에 의하여

$0 < c < 2$ 이고 $g(c)=2$ 인 c 가 적어도 하나 존재한다.

조건 (나)에 의하여

$$0 \leq x < 1, 1 < x \leq 2 \text{에서 } g(x) = f(x) \neq 2$$

이므로 $c=1$

$$g(1) = 3f(2) = 2 \text{에서 } f(2) = \frac{2}{3}$$

$$f(0) + f(2) = 4 \text{에서 } f(0) = \frac{10}{3}$$

$$\text{따라서 } \frac{f(0)}{f(2)} = 5$$

29. [출제의도] 수열의 귀납적 정의 이해하기

$$a_1 > 6 \text{에서 } a_2 = \frac{1}{a_1} - 1$$

$$a_2 < 0 \text{이므로 } a_3 = -a_2 = -\frac{1}{a_1} + 1$$

$$a_3 > 0 \text{이므로 } a_4 = \frac{1}{a_3} - 1 = \frac{1}{a_1 - 1}$$

$$a_4 > 0 \text{이므로 } a_5 = \frac{1}{a_4} - 1 = a_1 - 2$$

자연수 n 에 대하여 $a_n > 1$ 이면

위와 같은 과정에 의하여

$$a_{n+1} < 0, a_{n+2} > 0, a_{n+3} > 0$$

이므로 $a_{n+4} = a_n - 2$

$$a_5 > 1 \text{이므로 } a_9 = a_1 - 4$$

$$a_9 > 1 \text{이므로 } a_{13} = a_1 - 6$$

그러므로

$$\begin{aligned} a_1 + a_5 + a_9 + a_{13} &= a_1 + (a_1 - 2) + (a_1 - 4) + (a_1 - 6) \\ &= 4a_1 - 12 \end{aligned}$$

$$4a_1 - 12 = 13 \text{에서 } a_1 = \frac{25}{4} \text{이고}$$

$$a_{13} = \frac{25}{4} - 6 = \frac{1}{4}$$

$$\text{그러므로 } a_{14} = 4 - 1 = 3, a_{15} = \frac{1}{3} - 1 = -\frac{2}{3}$$

$$\text{따라서 } 12(a_{14} + a_{15}) = 12 \times \left(3 + \left(-\frac{2}{3}\right)\right) = 28$$

30. [출제의도] 함수의 연속을 이용하여 추론하기

실수 p 에 대하여

함수 $f(x)$ 가 $x=p, x=p+k$ 에서 모두 연속이면

$$\begin{aligned} \lim_{t \rightarrow p} g(t) &= \lim_{t \rightarrow p} \frac{f(t+k) - f(t)}{k} \\ &= \frac{f(p+k) - f(p)}{k} = g(p) \end{aligned}$$

이므로 함수 $g(t)$ 는 $t=p$ 에서 연속이고,

함수 $h(t) = f(t)g(t)$ 도 $t=p$ 에서 연속이다.

함수 $f(x)$ 는

$$\lim_{x \rightarrow -4} f(x) = \lim_{x \rightarrow -4} (x+4)(x+a) = 0, \quad f(-4) = b \text{에서}$$

$$\lim_{x \rightarrow -4} f(x) \neq f(-4) \text{이므로 } x = -4 \text{에서 불연속이고}$$

$$\lim_{x \rightarrow 0^-} f(x) = \lim_{x \rightarrow 0^-} (x+4)(x+a) = 4a,$$

$$f(0) = \lim_{x \rightarrow 0^+} f(x) = c \text{이므로}$$

$4a = c$ 이면 $x = 0$ 에서 연속이고,

$4a \neq c$ 이면 $x = 0$ 에서 불연속이다. ... ㉠

또한 함수 $f(x)$ 는 a, b, c, k 의 값에 관계없이

$x \neq -4, x \neq 0$ 인 실수 전체의 집합에서 연속이므로

함수 $h(t)$ 는 a, b, c, k 의 값에 관계없이

$t = -4 - k, t = -k, t = -4, t = 0$ 을 제외한

실수 전체의 집합에서 연속이다.

이를 이용하여 a, b, c, k 의 값을 구하면 다음과 같다.

$t = -4 - k$ 에서

$$\begin{aligned} \lim_{t \rightarrow -4-k} h(t) &= \lim_{t \rightarrow -4-k} \left\{ f(t) \times \frac{f(t+k) - f(t)}{k} \right\} \\ &= f(-4-k) \times \frac{0 - f(-4-k)}{k} \\ &= -\frac{\{f(-4-k)\}^2}{k} \end{aligned}$$

$$h(-4-k) = f(-4-k) \times \frac{f(-4) - f(-4-k)}{k}$$

이고 함수 $h(t)$ 는 $t = -4 - k$ 에서 연속이므로

$$-\frac{\{f(-4-k)\}^2}{k} = \frac{f(-4-k)\{f(-4) - f(-4-k)\}}{k}$$

$$f(-4-k)f(-4) = 0$$

이고 $f(-4) \neq 0$ 이므로 $f(-4-k) = 0$

즉, $-a = -4 - k, a = k + 4$ 이고

$x < -4, -4 < x < 0$ 일 때

$$f(x) = (x+4)(x+k+4) \dots \text{㉡}$$

$t = -k$ 에서

$$\begin{aligned} \lim_{t \rightarrow -k^+} h(t) &= \lim_{t \rightarrow -k^+} \left\{ f(t) \times \frac{f(t+k) - f(t)}{k} \right\} \\ &= f(-k) \times \frac{c - f(-k)}{k} \end{aligned}$$

$$\begin{aligned} \lim_{t \rightarrow -k^-} h(t) &= \lim_{t \rightarrow -k^-} \left\{ f(t) \times \frac{f(t+k) - f(t)}{k} \right\} \\ &= f(-k) \times \frac{4a - f(-k)}{k} \end{aligned}$$

$$h(-k) = f(-k) \times \frac{c - f(-k)}{k}$$

함수 $h(t)$ 가 $t = -k$ 에서 연속이므로

$$f(-k) \times \frac{c - f(-k)}{k} = f(-k) \times \frac{4a - f(-k)}{k}$$

$k > 4$ 이므로 ㉡에서 $f(-k) \neq 0$

그러므로 $c = 4a$ 이고, ㉠에 의하여

함수 $f(x)$ 는 $x = 0$ 에서 연속이다.

$t = -4$ 에서

$$\begin{aligned} \lim_{t \rightarrow -4} h(t) &= \lim_{t \rightarrow -4} \left\{ f(t) \times \frac{f(t+k) - f(t)}{k} \right\} \\ &= 0 \times \frac{f(-4+k) - 0}{k} = 0 \end{aligned}$$

$$h(-4) = f(-4) \times \frac{f(-4+k) - f(-4)}{k}$$

함수 $h(t)$ 가 $t = -4$ 에서 연속이므로

$$f(-4) \times \frac{f(-4+k) - f(-4)}{k} = 0$$

$f(-4) \neq 0$ 이므로 $f(-4+k) = f(-4) = b$

조건 (나)에서 $b = f(k)$ 이므로

$f(-4+k) = f(k)$ 이고 $-4+k > 0, k > 0$

이차함수 $y = -x^2 + 6x + c$ 의 그래프가

직선 $x = 3$ 에 대하여 대칭이므로

$$\frac{(-4+k)+k}{2} = 3, \quad k = 5 \text{이고}$$

$$a = 5 + 4 = 9$$

$$c = 4 \times 9 = 36$$

$$b = f(5) = -25 + 30 + 36 = 41$$

그러므로 함수 $f(x)$ 는

$$f(x) = \begin{cases} (x+4)(x+9) & (x < -4, -4 < x < 0) \\ 41 & (x = -4) \\ -x^2 + 6x + 36 & (x \geq 0) \end{cases}$$

따라서 $f(c-a-b) = f(36-9-41) = f(-14) = 50$

